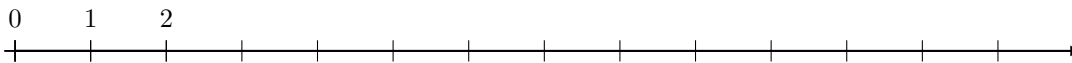


1. Odczytaj i podpisz współrzędne zaznaczonych punktów

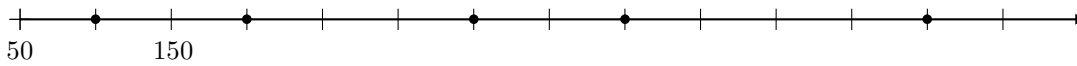


2. Zaznacz na osi liczbowej współrzędne podanych punktów:

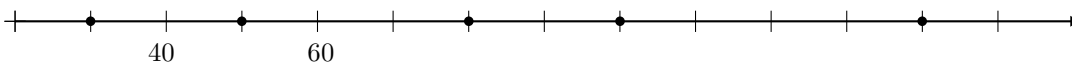
- (a)  $A=4$
- (b)  $B=5$
- (c)  $C=8$
- (d)  $D=11$
- (e)  $E=13$



3. Odczytaj i podpisz współrzędne zaznaczonych punktów



4. Odczytaj i podpisz współrzędne zaznaczonych punktów



5. Odczytaj i podpisz współrzędne zaznaczonych punktów. Zaznacz punkty o podanych współrzędnych.

- (a)  $A=850$
- (b)  $B=1375$

